

# Cuprins

La piață .....	4-25
Alcătuirea numărului 10 .....	26
Adunarea .....	27
Stabilirea corespondenței .....	28
Numărarea .....	29
Înmulțirea .....	30-31



Astăzi, Lili și-a invitat acasă câțiva prieteni. Ea vrea să le pregătească o prăjitură pe care să o servească alături de fructele sale preferate. Prăjitura este gata. Pentru fructe, trebuie să meargă la piață împreună cu tatăl ei. Dar, pentru început, trebuie să se ocupe de farfuriile de unică folosință.

– Câte farfurii trebuie să cumpăr? își întreabă ea tatăl.

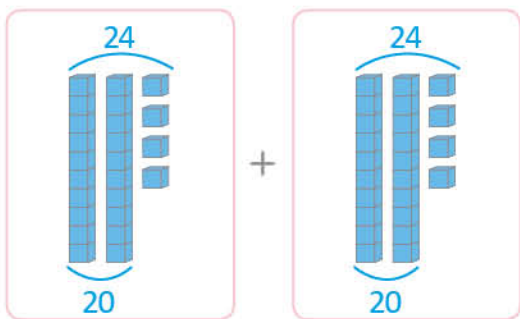
– Ai invitat 5 fete și 4 băieți. Nu uita să te numeri și pe tine! răspunde tata.

**Tu ce crezi? Câte farfurii trebuie să cumpere Lili?**

BUN VEN



–  $24 + 24$  înseamnă  $20 + 20 + 4 + 4$ .



Rezultatul este  $40 + 8$ . Iar  $40 + 8 = 48$ .

Am 48 de căpșune de împărțit, spune Lili.

Cei doi iau fructele și se întorc acasă. Este momentul să pună masa.

Tata îi reamintește că, din cele 33 de mure, fiecare dintre cei 10 copii va avea câte 3 mure (și îi vor mai rămâne 3).

**Tu ce crezi, copiii vor avea mai multe mure sau mai multe căpșune?**



Lili pregătește farfuriile, punând pe fiecare o porție de prăjitură decorată cu mure și cu căpșune.

Invitații încep să sosească.

– 3 fete și 3 băieți! Deocamdată este același număr de fete și de băieți!

– Cu tine, Lili, sunteți 4 fete și 3 băieți, îi atrage tata atenția.

– Deci suntem mai multe fete decât băieți! zâmbește Lili.

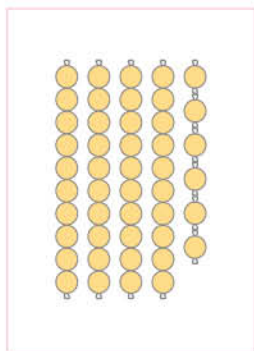
**Câți invitați lipsesc?**

Lili își folosește degetele:

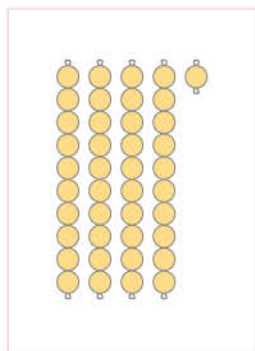
- Mai lipsesc Teo, Clara și Laura. Cei 3 copii vor sosi în curând!
- Da, mai târziu veți fi 10 copii, răspunde tata. Sunteți deja 7, așadar, mai lipsesc 3, deoarece  $7 + 3$  este egal cu 10.
- Și  $10 - 7$  este egal cu 3. Și, dacă înlăturăm copiii care lipsesc, avem același rezultat, remarcă Lili.

# Stabilirea corespondenței

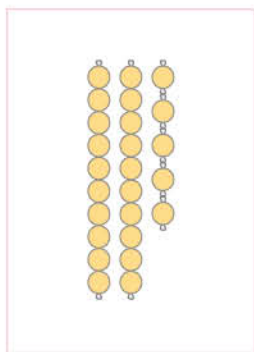
Numără fiecare grup de mărgelă, apoi unește-l cu numărul care îi corespunde.



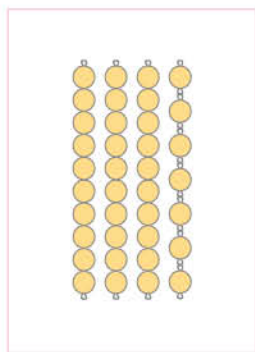
41



37



46



25

# Numărea

